





Zagadka matematyczna: Tabliczka mnożenia 2x, 5x i 10x


Czy potrafisz pomóc detektywowi Mike'owi znaleźć brakujące liczby z zakresu mnożenia przez 2, 5 i 10?


1. $2 \times 9 =$ 


3. $10 \times$  $= 40$


8. $2 \times$  $= 14$

2.  $\times 5 = 35$


4. $10 \times 5 =$ 

9.  $\times 2 = 20$


5. $2 \times$  $= 10$

10. $5 \times$  $= 60$

6. $11 \times 5 =$ 

11. $10 \times 4 =$ 

7.  $\times 10 = 90$


12. $2 \times 11 =$ 





Zagadka matematyczna: Tabliczka mnożenia 2x, 5x i 10x

Czy potrafisz pomóc detektywowi Mike'owi znaleźć brakujące liczby z zakresu mnożenia przez 2, 5 i 10?


13.  × 5 = 55


15.  × 10 = 70

20. 10 × 4 = 


14. 2 ×  = 6


16. 2 × 4 = 

21. 2 ×  = 22

17. 5 ×  = 25

22.  × 5 = 0

18.  × 2 = 24

23. 5 ×  = 20

19.  × 10 = 20

24. 2 × 8 = 



Zagadka matematyczna: Tabliczka mnożenia 2x, 5x i 10x **Odpowiedzi**

Pytanie	Odpowiedź
1.	2 × 9 = 18
2.	7 × 5 = 35
3.	10 × 4 = 40
4.	10 × 5 = 50
5.	2 × 5 = 10
6.	11 × 5 = 55
7.	9 × 10 = 90
8.	2 × 7 = 14
9.	10 × 2 = 20
10.	5 × 12 = 60
11.	10 × 4 = 40
12.	2 × 11 = 22

Pytanie	Odpowiedź
13.	11 × 5 = 55
14.	2 × 3 = 6
15.	7 × 10 = 70
16.	2 × 4 = 8
17.	5 × 5 = 25
18.	12 × 2 = 24
19.	2 × 10 = 20
20.	10 × 4 = 40
21.	2 × 11 = 22
22.	0 × 5 = 0
23.	5 × 4 = 20
24.	2 × 8 = 16